

Scheda Didattica Operativa

Istituto : _____

Docente: _____

Materia : _____

Scheda Operativa con esercizi sui numeri da 1 a 100.

SCHEDA OPERATIVA - I NUMERI DA 1 A 100

Nome: _____ Data: _____

Esercizio 1: Completa la sequenza

Riempi gli spazi vuoti con i numeri mancanti:

- 12, 13, 14, _____, _____, _____, 18, _____, _____, 21
- _____, 25, _____, _____, 28, _____, 30, _____, _____, 33
- 40, _____, _____, 43, _____, _____, 46, 47, _____, 49
- 50, _____, 52, _____, 54, _____, _____, 57, _____, 59

Esercizio 2: Conta a salti di 10

Scrivi i numeri che mancano saltando di 10 in 10:

- 10, _____, 30, _____, 50, _____, 70, _____, _____, 100

Esercizio 3: Trova il numero

Rispondi alle seguenti domande:

1. Qual è il numero che viene subito prima di 29?

2. Qual è il numero che viene subito dopo 56?

3. Qual è il numero tra 73 e 75?

4. Qual è il numero che viene subito dopo 99?

Esercizio 4: Scomposizione dei numeri

Scomponi i seguenti numeri in decine e unità:

1. 34 = _____ decine + _____ unità
 2. 78 = _____ decine + _____ unità
 3. 92 = _____ decine + _____ unità
 4. 56 = _____ decine + _____ unità
-









Esercizio 5: Confronta i numeri

Scrivi > (maggiore), < (minore) o = (uguale) per confrontare i numeri:

1. 45 _____ 54
 2. 99 _____ 100
 3. 67 _____ 67
 4. 22 _____ 19
 5. 83 _____ 89
-

Esercizio 6: Collega i numeri

Collega ogni numero alla sua rappresentazione visiva.

- 42  
- 73  
- 15  
- 60  

(Simbolo  = una decina,  = una unità)

Bonus: Risolvi il problema

Giulia ha 27 caramelle e ne riceve altre 15. Quante caramelle ha adesso in totale?
_____ caramelle

Data _____

Nome Cognome
Alunno